







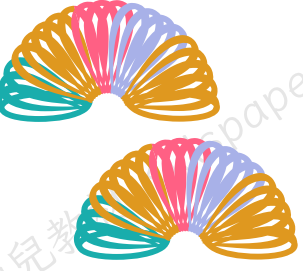






數學遊戲-加法

請計算下列的算式，並寫上相應答案。

	$+$	$=$	<input type="text"/>
	$+$	$=$	<input type="text"/>
	$+$	$=$	<input type="text"/>
	$+$	$=$	<input type="text"/>
	$+$	$=$	<input type="text"/>

數學遊戲-加法

請計算下列的算式，並寫上相應答案。

	+		=	<input type="text"/>
	+		=	<input type="text"/>
	+		=	<input type="text"/>
	+		=	<input type="text"/>
	+		=	<input type="text"/>

請計算下列的算式，並填上相應答案。

$2+5=$

$7+3=$

$2+3=$

$3+6=$

$2+2=$

$0+9=$

$4+3=$

$2+4=$

$3+4=$

$3+6=$

$4+4=$

$4+1=$

$2+1=$

$3+3=$

$9+1=$

$0+6=$

$2+5=$

$2+8=$

$1+2=$

$0+5=$

$4+5=$

$0+2=$

$3+1=$

$1+1=$

$2+6=$

$4+4=$

$1+4=$

數學遊戲-加法

請計算下列的算式，並填上相應答案。

$9+1=$

$7+2=$

$4+2=$

$1+6=$

$8+2=$

$0+5=$

$1+1=$

$0+4=$

$4+6=$

$2+2=$

$4+5=$

$6+1=$

$2+4=$

$3+7=$

$6+3=$

$0+1=$

$3+4=$

$5+3=$

$3+1=$

$3+3=$

$4+3=$

$0+8=$

$5+1=$

$2+1=$

$2+5=$

$2+2=$

$1+2=$