

數學遊戲-減法


請計算下列的算式，並把減去的動物畫上斜線。



$$9 - 3 = \underline{\hspace{2cm}}$$



$$10 - 5 = \underline{\hspace{2cm}}$$



$$8 - 2 = \underline{\hspace{2cm}}$$



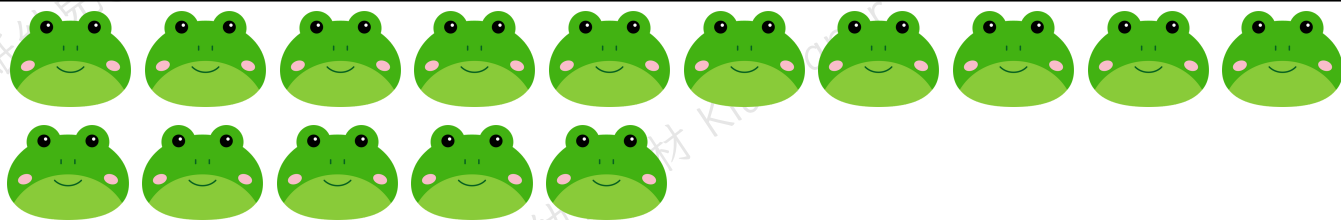
$$7 - 6 = \underline{\hspace{2cm}}$$

數學遊戲-減法

請計算下列的算式，並把減去的動物畫上斜線。




$$10 - 7 = \underline{\hspace{2cm}}$$



$$15 - 10 = \underline{\hspace{2cm}}$$



$$12 - 2 = \underline{\hspace{2cm}}$$



$$8 - 4 = \underline{\hspace{2cm}}$$

數學遊戲-減法

請計算下列的算式，並填上相應答案。

$6-4=$

$8-2=$

$9-1=$

$7-4=$

$9-2=$

$6-1=$

$9-7=$

$6-4=$

$6-5=$

$5-4=$

$8-8=$

$4-4=$

$8-2=$

$3-1=$

$4-4=$

$6-3=$

$3-2=$

$2-2=$

$7-5=$

$8-7=$

$8-3=$

$7-2=$

$5-3=$

$8-5=$

$7-4=$

$5-5=$

$7-6=$

數學遊戲-減法

請計算下列的算式，並填上相應答案。

$10-4=$

$14-2=$

$19-6=$

$17-4=$

$12-7=$

$16-1=$

$19-7=$

$17-4=$

$16-5=$

$11-9=$

$18-8=$

$14-4=$

$13-2=$

$15-8=$

$15-4=$

$16-3=$

$13-2=$

$12-8=$

$17-5=$

$11-7=$

$13-9=$

$12-2=$

$15-3=$

$18-9=$

$17-4=$

$15-5=$

$17-6=$

姓名: \_\_\_\_\_

日期: \_\_\_\_\_

請計算下列的算式，並填上答案。

$$8 - \square = 5$$

$$11 - \square = 3$$

$$9 - \square = 2$$

$$6 - \square = 6$$

$$13 - \square = 9$$

$$15 - \square = 6$$

$$7 - \square = 1$$

$$8 - \square = 4$$

$$6 - \square = 5$$

$$9 - \square = 2$$

$$4 - \square = 2$$

$$10 - \square = 5$$

姓名: \_\_\_\_\_

日期: \_\_\_\_\_

請計算下列的算式，並填上答案。

$$7 - \square = 2$$

$$18 - \square = 9$$

$$11 - \square = 5$$

$$2 - \square = 2$$

$$14 - \square = 6$$

$$16 - \square = 3$$

$$9 - \square = 2$$

$$8 - \square = 7$$

$$16 - \square = 2$$

$$9 - \square = 5$$

$$10 - \square = 6$$

$$12 - \square = 7$$